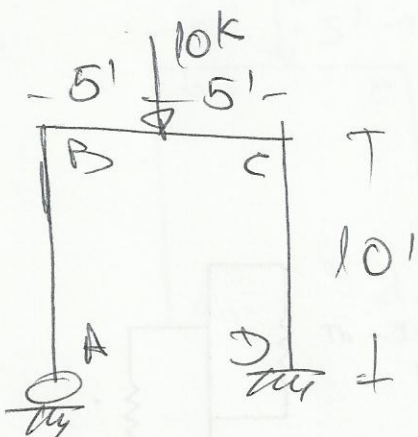


# ESTRUCTURAS INDUSTRIALES.

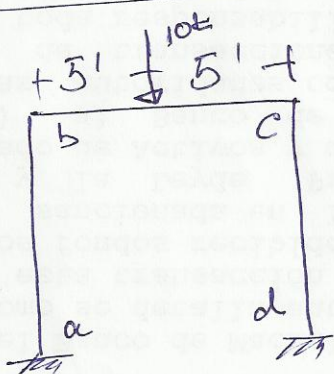
## TERCER PARCIAL

①



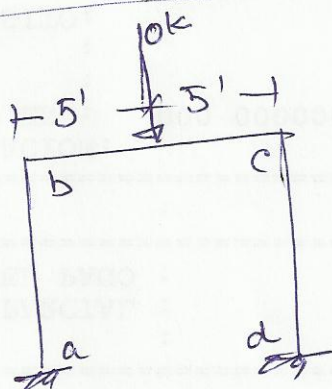
Determine los momentos de extremo. Use deformación consistente.  $EI = \text{constante}$ .

②



Determine los momentos de extremo. Use pendiente desviación.  $EI = \text{constante}$ .

③



Determine los momentos de extremo. Use distribución de momentos.  $EI = \text{constante}$ .