



ESCUELA SUPERIOR POLITÉCNICA DEL LITORAL
FACULTAD DE CIENCIAS NATURALES Y MATEMÁTICAS
DEPARTAMENTO DE FÍSICA

Año: 2015	Período: Segundo Término
Materia: Física A	Profesor:
Evaluación: Primera	Fecha: 9 de Diciembre de 2015

COMPROMISO DE HONOR

Yo, al firmar este compromiso, reconozco que el presente examen está diseñado para ser resuelto de manera individual, que puedo usar una calculadora *ordinaria* para cálculos aritméticos, un lápiz o esferográfico; que solo puedo comunicarme con la persona responsable de la recepción del examen; y, cualquier instrumento de comunicación que hubiere traído, debo apagarlo y depositarlo en la parte anterior del aula, junto con algún otro material que se encuentre acompañándolo. No debo además, consultar libros, notas, ni apuntes adicionales a las que se entreguen en esta evaluación. Los temas debo desarrollarlos de manera ordenada.

Firmo al pie del presente compromiso, como constancia de haber leído y aceptar la declaración anterior.

"Como estudiante de ESPOL me comprometo a combatir la mediocridad y actuar con honestidad, por eso no copio ni dejo copiar".

Firma

NÚMERO DE MATRÍCULA:..... PARALELO:.....

Preguntas de opciones múltiples

1 ¿Qué cantidad física mide cambios en la rapidez del movimiento? (1 punto)

- A Velocidad B velocidad tangencial C aceleración tangencial
D aceleración azimutal E desplazamiento

2 ¿Qué dirección debe tener la fuerza centrífuga? (1 punto)

- A Es contraria a la aceleración centrípeta del sistema de referencia
B Está en contra del movimiento
C Está a favor del movimiento
D Es contraria a la velocidad del sistema referencial
E Es contraria a la aceleración del cuerpo

3. ¿Qué fuerza puede indicarme el comportamiento de la energía cinética sobre un cuerpo? (1 punto)

- A La fuerza promedio
B La fuerza neta
C La fuerza centrípeta
D La fuerza inercial
E La fuerza conservativa

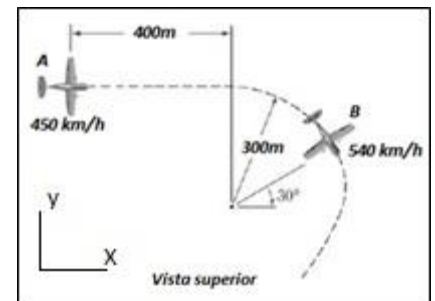
4. La velocidad máxima permitida en una curva peraltada en una carretera, es la velocidad con que un vehículo debe transitar para que no exista fuerza de rozamiento lateral en sus neumáticos. Según esto, ¿cuál será la velocidad máxima permitida en una curva de radio 400 m peraltada con un ángulo 18° ? (3 puntos)

- A. 35.69 m/s
- B. 61.06 m/s
- C. 34.80 m/s
- D. 11.40 m/s
- E. 50.0 m/s

Problema 1 (3 puntos)

Durante una competencia aérea, en un instante dado, un avión **A** vuela horizontalmente en línea recta a una velocidad de 450km/h, mientras que un avión **B**, que vuela a la misma altitud de **A**, describe una trayectoria circular de 300m de radio, a una velocidad de 540km/h. Para el instante mostrado en la figura:

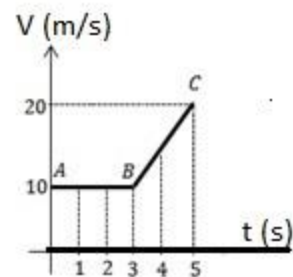
- a) Dibujar el vector velocidad de **B** con respecto a **A** ($V_{B/A}$). (1 punto)
- b) Calcular la $V_{B/A}$, expresarla en Km/h. (2 puntos)



Problema 2 (5 puntos)

El gráfico V-t que se muestra, describe el movimiento rectilíneo de una partícula a lo largo del eje x. Si se conoce que en el instante $t = 0$ [s], la partícula parte del origen $\vec{x} = 0$ [m], entonces determinar la expresión del **vector posición en función del tiempo** para el:

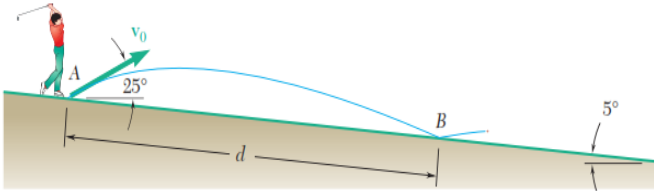
- a) Tramo AB (2 puntos)
- b) Tramo BC (3 puntos)



Problema 3 (6 puntos)

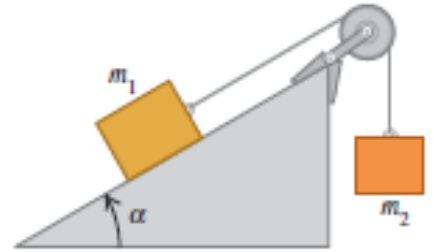
Un golfista golpea la pelota con una velocidad inicial de 40 m/s , a un ángulo de 25° con la horizontal. Si el terreno de juego desciende con un ángulo promedio de 5° , determine:

- El tiempo que le toma a la pelota en ir de A hasta B (3 puntos)
- la distancia d entre el golfista y el punto B donde la pelota toca el terreno por primera vez (3 puntos)



Problema 4 (4 puntos)

Considere el sistema de la figura en la que existe fricción entre el plano ($\alpha=30^\circ$) y m_1 . El bloque m_1 pesa 45.0 N y el bloque m_2 pesa 25.0 N. Una vez que el bloque m_2 se pone en movimiento hacia abajo, este desciende con rapidez constante.



- Elaborar el diagrama de cuerpo libre de m_1 y m_2 (1 punto)
- Calcular el coeficiente de fricción cinética entre el bloque m_1 y el plano inclinado. (3 puntos)

Problema 5 (7 puntos)

Un cuerpo que pesa 392N y que reposa sobre una superficie horizontal rugosa, durante 10 segundos es empujado con una fuerza $\mathbf{F} = (10t^2 + 10t) \mathbf{i}$ [N]. Mientras el cuerpo esté en reposo se manifiesta una fuerza resistiva entre las superficies dada por $\mathbf{f} = 30t$.

- Determine en que momento comienza a moverse desde la aplicación de la fuerza. (2 p)
- Obtener la aceleración, en función del tiempo, que adquiere el cuerpo al moverse, si entre las superficies existe una fuerza resistiva constante de 50N. (2 p)
- Que rapidez alcanzará el cuerpo a $t = 10$ s. (3 p)

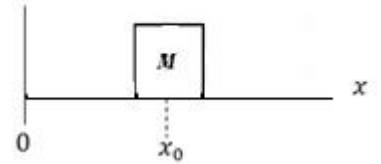
Problema 6 (6 puntos)

A un bloque de masa 10 kg, se le aplica una fuerza F en la dirección positiva de x , de tal manera que experimenta una aceleración dada por $a = 2.25x^2 + x - 1.96$, donde a está en m/s^2 y x está en metros, tal que $x > 0$. El coeficiente de fricción cinética entre el bloque y la superficie es 0.20.

a) Determine la fuerza F en función de la posición x . (3 p)

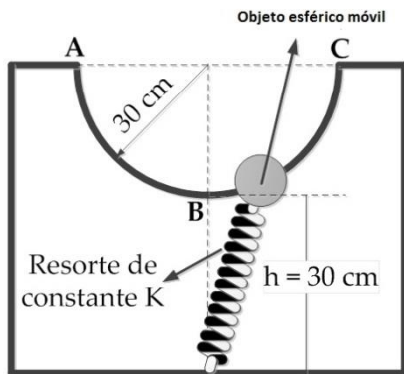
b) Determine la posición x_0 en la cual el bloque no experimenta aceleración alguna. (1 p)

c) Determine el trabajo realizado por la fuerza F desde x_0 hasta una posición de $x_1 = 2$ m (2 p)



Tema 7 (5 puntos)

Un objeto esférico que pesa 2.5 N está restringido a moverse por un alambre semicircular situado en un plano vertical, según se indica la figura. La longitud natural del resorte es de 20 cm, y de constante elástica $k = 50 \text{ N/m}$ y el rozamiento es despreciable. Si se suelta el objeto partiendo del reposo en la posición A, determinar la velocidad en la posición B.



Tema 8 (8 puntos)

Considerando el siguiente gráfico de Energía en función de la posición (Energía potencial, U, en líneas entrecortadas y la Energía cinética, K, en línea completa):

- Encuentre la función de la energía cinética, la energía potencial y la energía mecánica total en función de la posición. (2 puntos)
- Realice el gráfico de la Energía mecánica en función de X (2 puntos)
- Calcule el trabajo de las fuerzas no conservativas desde $X=0$ a $X=2$ m (2 puntos)
- Calcule el trabajo de las fuerzas no conservativas desde $X=2$ m hasta cuando la energía cinética (K) se reduzca a cero (2 puntos)

