



ESCUELA SUPERIOR POLITÉCNICA DEL LITORAL
FACULTAD DE INGENIERÍA MARÍTIMA Y CIENCIAS DEL MAR
CURSO DE NIVELACIÓN DE CARRERA 2S-2015

PRIMERA EVALUACIÓN DE SOCIEDAD Y CULTURA PARA TURISMO

GUAYAQUIL, 29 DE ENERO DE 2016

VERSIÓN 01

N° cédula estudiante: _____

Paralelo: _____

COMPROMISO DE HONOR

Yo, _____ al firmar este compromiso, reconozco que el presente examen está diseñado para ser resuelto de manera individual, que puedo usar un lápiz o esferográfico; que solo puedo comunicarme con la persona responsable de la recepción del examen; y, cualquier instrumento de comunicación que hubiere traído, debo apagarlo y depositarlo en la parte frontal del aula, junto con algún otro material que se encuentre acompañándolo. No debo además, consultar libros, notas, ni apuntes adicionales a las que se entreguen en esta evaluación. Los temas debo desarrollarlos de manera ordenada.

Firmo el presente compromiso, como constancia de haber leído y aceptar la declaración anterior.

"Como aspirante a la ESPOL me comprometo a combatir la mediocridad y actuar con honestidad, por eso no copio ni dejo copiar".

I N S T R U C C I O N E S

1. Abra el examen una vez que el profesor de la orden de iniciar.
2. Escriba sus datos de acuerdo a los solicitado en la hoja de respuestas, incluya su número de cédula y la **VERSIÓN** ___ del examen.
3. Verifique que el examen consta de _____ preguntas de opción múltiple.
4. El valor de cada pregunta es de ___ puntos.
5. Cada pregunta tiene una sola respuesta correcta.
6. Desarrolle todas las preguntas del examen en un tiempo máximo de 2 horas.
7. En el cuadernillo de preguntas, escriba el DESARROLLO de cada tema en el espacio correspondiente.
8. Utilice lápiz # 2 para señalar el item seleccionado en la hoja de respuestas, rellenando el correspondiente casillero tal como se indica en el modelo.
9. No está permitido el uso de calculadora para el desarrollo del examen. (según corresponda a cada materia)
10. No consulte con sus compañeros, el examen es estrictamente personal.
11. En caso de tener alguna consulta, levante la mano hasta que el profesor pueda atenderlo.

EXA1 SOCYCULTUR1 VERSIÓN 0

- 1) A finales del siglo XVI y comienzo del siglo XVIII funcionó el llamado _____, que caracterizó al segundo período de la época de dominación hispánica, Quito tuvo una relativa estabilidad económica y social, con la implantación de este proceso
- A. Pacto hispánico
 - B. **Pacto Colonial**
 - C. Pacto de la dominación
 - D. Pacto Bilateral
- 2) Ésta fue un sistema de trabajo obligatorio utilizado en América específicamente en la Región Andina, tanto en la época incaica, como en la de la posterior conquista española de América. Era un sistema de trabajo a favor del Estado incaico destinado a las tierras del dios Sol que implicaba la construcción de centros administrativos, templos, acueductos, etc. Existían servicios especiales como las labores de cargueros del Sapa Inca, músicos, chasquis y danzantes, los obligados a cumplir esta labor eran los adultos hombres casados, mas no las mujeres, cuya edad oscilaba entre los 18 y 50 años. ¿De qué estamos hablando?
- A. **Mita**
 - B. Obraje
 - C. Encomienda
 - D. Ayllus
- 3) Conocido como la crisis de 1700, fue un proceso de consolidación del _____ como eje de todo el sistema económico. Las haciendas crecieron en tamaño y lograron integrar cada vez mayor cantidad de trabajadores dentro de sus límites. De este modo surgió un nuevo tipo de relación llamado el concertaje.
- A. **Los latifundios.**
 - B. Los Ayllus
 - C. Los cacicazgos
 - D. Los Obrajes
- 4) La crisis financiera en Estados Unidos del 2008 se debió principalmente al colapso de:
- A. La falta de vivienda
 - B. La FED
 - C. **La burbuja inmobiliaria**
 - D. La primera guerra Mundial
- 5) La crisis financiera de los _____, se extendió a nivel mundial, provocando lo que en el mundo financiero se conoce como "Crisis Suprime". ¿En qué país se produjo ésta crisis?
- a) Unión soviética
 - b) **Estados Unidos**
 - c) Inglaterra
 - d) Grecia

De acuerdo a la Crisis económica por la que atravesó el Ecuador en la década de los 90's, Marque la respuesta correcta de acuerdo a las preguntas formuladas:

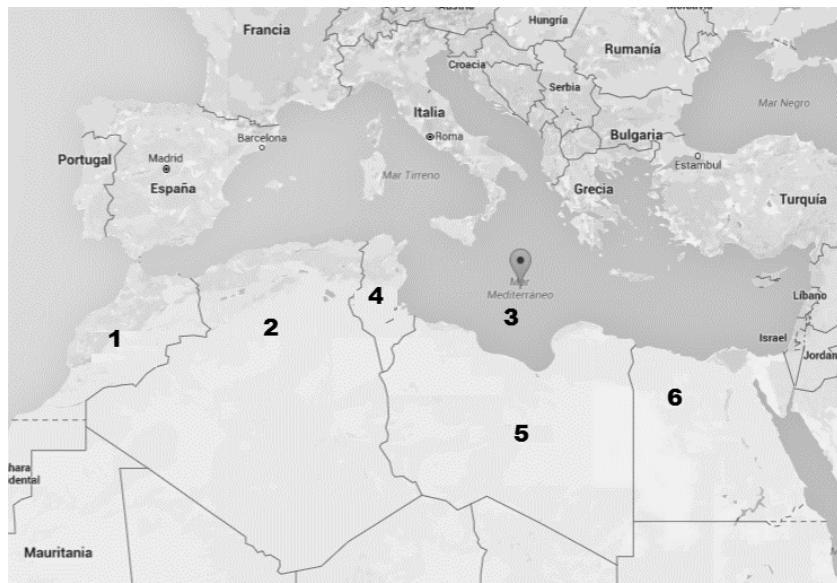


1) 199__ 2) 199__-199__ 3) 199__ 4) 199__ 5) 200__

Crisis Financiera del Ecuador de los 90's

- 6) En qué Gobierno se formuló la “Ley General de las instituciones Financieras”; que en contexto beneficiaba a los grupos bancarios que después trajo como resultado los créditos vinculados:
- Año 1994- Gobierno de Sixto Duran Ballén
 - Año 2000-Gobierno de Jamil Mahuad
 - Año 1993-Gobierno de Abdalá Bucarón
 - Año 1996-Gobierno de Fabián Alarcón
- 7) Se le atribuyen algunos acontecimientos, como fue la creación de la Agencia de Garantía de Depósitos, los excesivos préstamos otorgados que no fueron pagados, y que provocaron una inflación arriba del 36%.
- Año 1998- Gobierno de Fabián Alarcón
 - Año 1999 –Gobierno de Abdalá Bucarón
 - Año 1999 Gobierno de Jamil Mahuad
 - Año 1995-Gobierno de Sixto Duran Ballén.
- 8) Durante su Gobierno se le atribuyen una de las crisis económicas más grandes del Ecuador, sus decisiones provocaron que la inflación suba al 56%, decretó el feriado Bancario y el congelamiento de los depósitos. ¿A quién nos referimos, y en qué año?
- Jamil Mahuad –Año 1999
 - Fabián Alarcón-Año1998
 - Fabián Alarcón-Año 1996
 - Jamil Mahuad –Año 2001
- 9) A fines del siglo XIX, la gran demanda cacaotera a nivel mundial convirtieron al Ecuador en el principal exportador. Muchas familias adineradas dedican sus tierras a este producto, en haciendas denominadas Grandes Cacaos. ¿En qué lugar del Ecuador se encontraban mayoritariamente estas haciendas?
- Yaguachi
 - Cuenca
 - Vinces
 - Guayaquil

- 10) Aproximadamente en el año 1907, se presentó una crisis cacaotera, que provocó la caída mundial, y la consecuente crisis económica del Ecuador y que afectó gravemente la exportación de los grandes cacao. A continuación se señalan algunas causas, marque la que es considerada la de mayor importancia.
- La plaga *Minitiph-thora* pernicioso que afectó a los cultivos
 - Las Colonias británicas africanas abrieron mercados a precios más bajos**
 - La plaga de la Monilla, que afectó a los cultivos
 - La inserción de nuevos cultivos, como el Banano
- 11) El conjunto de violentas transformaciones político, social, y que inició en _____ con la inmolación de un joven vendedor ambulante, que se inmoló el _____ en protesta por la confiscación de su puesto de frutas y la humillación que dijo haber recibido de los oficiales municipales cuando fue a presentar una queja por este hecho. ¿Marque el número que corresponde a la ubicación del País donde se dieron estos acontecimientos?



- | | | | | |
|----------|---------|--------------|--------------|-------|
| A. 1 | B. 2 | C. 3 | D. 4 | E. 5 |
| Marrueco | Argelia | Mediterráneo | Túnez | Libia |

- 12) ¿En qué fecha se llevó a cabo este hecho?
- 17 de diciembre de 2010**
 - 29 de marzo de 1984
 - 04 de enero de 2011
 - 14 de enero de 2011
- 13) ¿Cómo se llamaba el joven que se inmoló, y que tiempo después fue llamado el padre de la revolución?
- Abidini Ben Alí.
 - Mohamed Bouazizi**
 - Asmaa Mahfouz
 - Hosni Mubarak
- 14) Los líderes opositores al Gobierno de Hosni Mubarak en Egipto, convocaron una jornada de revueltas que exigía la dimisión de Mubarak. Cómo se llamó a la revuelta que se llevó a cabo en la plaza TAHRIR de Cairo donde fueron convocadas más de medio millón de personas. ¿Marque el literal que contenga la respuesta correcta?
- La marcha del Millón**
 - La marcha de TAHRIR

- 15) En Egipto, durante el Gobierno de Hosni Mubarak, el término “EL 11-F” se lo atribuye a:
- A. Fecha de la dimisión de Hosni Mubarak.
 - B. Movimiento de los líderes opositores al régimen.
 - C. Seguidores que respaldaban a Hosni Mubarak
 - D. El ejército que intervino en la caída de Hosni Mubarak.

Responda las preguntas 16 y 17 analizando el siguiente extracto de noticia:

“ _____, gobernó este País por más de 42 años, y ostentaba uno de los mejores niveles de vida de todo el continente africano. A pesar de esto, a inicios de enero, una serie de manifestaciones antigubernamentales se manifestaron en la ciudad de _____. Las manifestaciones reclamaban mejores condiciones de vida para los habitantes de dicha ciudad y responsabilizaban a _____ y a varios miembros de su círculo de poder de enriquecerse”.

- 16) ¿En qué país se llevaron a cabo estas revueltas?

- A. Marruecos
- B. Argelia
- C. Mediterráneo
- D. Túnez
- E. Libia

- 17) ¿Cómo se llamaba este Dictador?

- A. Abu Bakr Al-Qirbi
- B. Muamar el Gadafi
- C. Misurata Bengasí
- D. Alpi Abdullah Saleh

- 18) Con relación a las principales transformaciones sociales ocurridas con la caída del Presidente Egipcio, marque verdadero (A) o falso (F) según corresponda a los siguientes enunciados:




“Se cambió la constitución, con una aprobación del 32,9%, y se presentó a votación el 63,8%”

A.	B.
----	----

- 19) Que territorios formaban la región que hoy comprende “Siria”:

- A. Turquía y Grecia, y Líbano
- B. Sinaí, Anatolio y Líbano
- C. Libia y Túnez
- D. Anatolia, Turquía y Sinaí

Analice las banderas y las principales características de los principales grupos extremistas que surgen en Siria y que se encuentran dominando gran parte del medio Oriente. Marque la respuesta correcta.

 <ul style="list-style-type: none"> • Sunismo, Yihadismo • “Cuando te encuentres con los infieles, atácalos en el cuello” • Líder Abu Musab al Zarqawi 	 <ul style="list-style-type: none"> • Basado en el Corán • “Guerra de liberación • Líder principal Osama Bin Laden 	 <ul style="list-style-type: none"> • Basado en la Ley de Sharia • Ustaz Mohammed Yusuf
20)	21)	22)
A. Isis	A. Isis	A. Isis
B. A Qaeda	B. Al Qaeda	B. A Qaeda
C. Boko Haram	C. Boko Haram	C. Boko Haram

23) Cual fue el primer emperador Chino

- A. Yun
- B. Yao
- C. Chun
- D. Tcheu

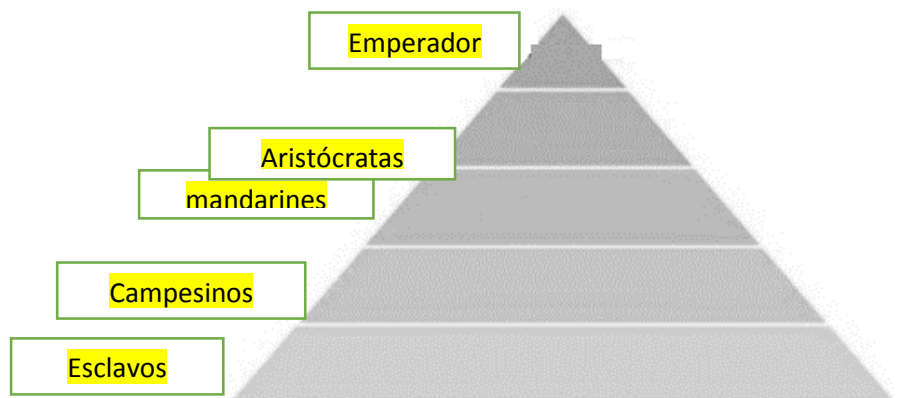
24) ¿En qué Dinastía se construyó la Gran Muralla China?

- A. Dinastía Chang
- B. Dinastía Techeou
- C. Dinastía Thsin
- D. Dinastía Hia

25) De acuerdo a la jerarquía social en china, organice la siguiente pirámide. Organice los números según el orden en que se ubicarían jerárquicamente en la imagen que representa su organización social.

1.Campesinos	2.Mandarine	3. Aristócratas	4.Emperador	5.esclavos
--------------	-------------	-----------------	-------------	------------

- A. 5, 1, 2, 3, 4,
- B. 5, 1, 3,2, 4,
- C. 1, 5 2,4, 3
- D. 2, 1, 3, 4,5



26) Acuerdo conocido oficialmente como el Acuerdo de Asia Menor, que se llevó a cabo en secreto entre Reino Unido de Gran Bretaña e Irlanda y la Tercera República Francesa, para definir las propuestas de control de los dos países en el Próximo Oriente, previendo si la triple entente obtuviera la victoria en contra del Imperio otomano en la Primera Guerra Mundial. Las negociaciones ocurrieron entre noviembre de 1915 y marzo de 1916 se firmó el acuerdo el 16 de mayo de 1916 ¿Cómo se llamó este acuerdo?

- A. Acuerdo Sykes -Picott
- B. La Triple Entente
- C. La Entente Coodiale.
- D. Acuerdo Anglo Ruso

27) En Siria se lleva a cabo la peor Guerra civil de la región. Entre las principales consecuencias que ocasiona esta guerra encontramos: ¿Marque el enunciado enlistado que no pertenece a esta Guerra Civil?

- A. Daños a la economía se estiman en 100 mil millones.
- B. Pobreza sobrepasa al 80% de la población.
- C. 25% de población ha huido, existiendo hasta la fecha más desplazados que cualquier otro conflicto mundial.
- D. Más de 250.000 muertes.
- E. División Coyuntural entre dos poderes mundiales el Socialismo y el Comunismo

28) En Siria durante el conflicto interno aconteció el 21 de Agosto de 2013, un ataque químico que provocó la muerte de más de 1.400 personas y dejó a otras 3.000 heridas, siendo la peor matanza humana del año 2013 y el peor ataque químico en los últimos 25 años. ¿Cómo se conoce a nivel mundial este hecho?

- A. La Masacre de Damasco
- B. La masacre de Ghouta (Guta)
- C. La Masacre de TAHRIR

29) La confusión étnica y religiosa de Siria, constituye uno de los principales motivos para el recrudecimiento de la violencia. A continuación se describen las características de uno de esos grupos. Marque el literal que contenga el nombre del grupo que le corresponden esas características:

“Son la mayoría de la población, representa el 74%. La mayoría de las revueltas están liderados por ellos”

- A. Chiíes
- B. Suníes
- C. Cristianos
- D. Judios
- E. Kurdos

30) EL actual presidente Sirio es:

- A. Hafez Al Assad
- B. Bashar Al Assad.
- C. Aymán Al Zawahiri
- D. Ben AlÍ
- E. Sabah Aj-Ahrmad

31) Cuáles son los lugares estratégicos que han sido dominados por los grupos extremista en Siria y que han provocado las grandes migraciones y refugiados de sus ciudadanos a nivel mundial.

- A. Damasco, Homs y Hama
- B. Alepo, Damasco, y Homs
- C. Al Hasakah, Damasco, Ar Raqqah
- D. Dayr Az Zawr, Aleppo, Hamah

A continuación responde verdadero (A) o falso (B) según corresponda a cada enunciado:

32) Enunciado: Los militares estaban por encima de la nobleza con altos poderes políticos ya que eran dinastías. (No se olvide de marcar la hoja de respuesta)




C.	D.
----	----

33) Enunciado: El emperador era considerado el intermediario entre los Dioses y los hombres

A.	B.
----	----

34) Enunciado: Los campesinos trabajaban las tierras del estado en las construcciones y en las minas.

A.	B.
----	----

		
35)	36)	37)
A. Budismo	A. Budismo	A. Budismo
B. Jainismo	B. Jainismo	B. Jainismo
C. Hinduismo	C. Hinduismo	C. Hinduismo
D. Islam	D. Islam	D. Islam
E. Judaísmo	E. Judaísmo	E. Judaísmo

38) ¿En qué fecha comenzó el movimiento ciudadano conocido como los Indignados?

- A. **15 de Mayo del 2011**
- B. 15 de Febrero del 2011
- C. 15 de Octubre del 2011
- D. 15 de mayo del 2010.

39) En el mandato de que presidente Español, se aprueba la ley de economía sostenible

- A. **José Luis Rodríguez Zapatero**
- B. José María Aznar
- C. Felipe González
- D. Mariano Rajoy

40) Durante el proceso de Conquista de Quito, en qué fecha Sebastián de Benalcázar fundó la villa de San Francisco de Quito:

- A. **1534**
- B. 1532
- C. 1533
- D. 1820