



ESCUELA SUPERIOR POLITÉCNICA DEL LITORAL  
FACULTAD DE INGENIERÍA MARÍTIMA Y CIENCIAS DEL MAR  
CURSO DE NIVELACIÓN DE CARRERA 1S-2016

SEGUNDA EVALUACIÓN DE SOCIEDAD Y CULTURA PARA TURISMO

GUAYAQUIL, 07 DE SEPTIEMBRE DE 2016

VERSIÓN 0

N° cédula estudiante: \_\_\_\_\_

Paralelo: \_\_\_\_\_

**COMPROMISO DE HONOR**

Yo, \_\_\_\_\_ al firmar este compromiso, reconozco que el presente examen está diseñado para ser resuelto de manera individual, que puedo usar un lápiz o esferográfico; que solo puedo comunicarme con la persona responsable de la recepción del examen; y, cualquier instrumento de comunicación que hubiere traído, debo apagarlo y depositarlo en la parte frontal del aula, junto con algún otro material que se encuentre acompañándolo. No debo además, consultar libros, notas, ni apuntes adicionales a las que se entreguen en esta evaluación. Los temas debo desarrollarlos de manera ordenada.

*Firmo el presente compromiso, como constancia de haber leído y aceptar la declaración anterior.*

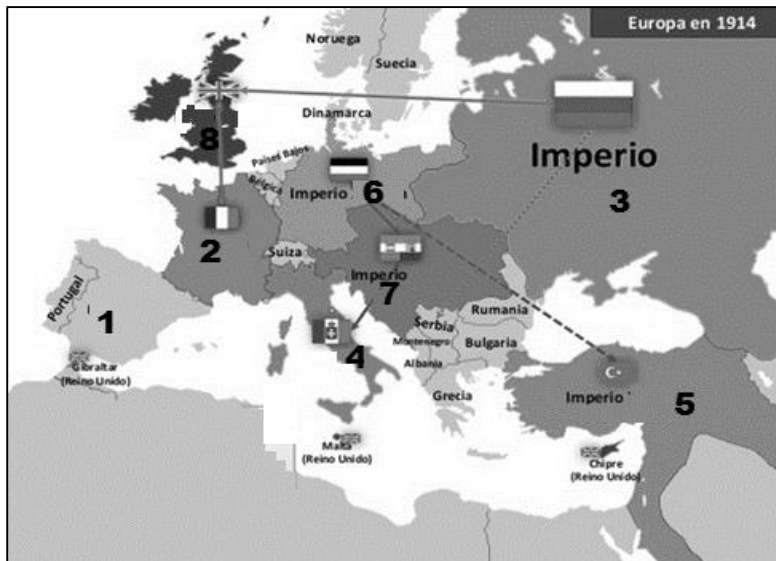
\_\_\_\_\_

"Como aspirante a la ESPOL me comprometo a combatir la mediocridad y actuar con honestidad, por eso no copio ni dejo copiar".

**I N S T R U C C I O N E S**

1. Abra el examen una vez que el profesor de la orden de iniciar.
2. Escriba sus datos de acuerdo a los solicitado en la hoja de respuestas, incluya su número de cédula y la **VERSIÓN 0** del examen.
3. Verifique que el examen consta de \_\_\_\_\_ preguntas de opción múltiple.
4. El valor de cada pregunta es de \_\_\_\_\_ puntos.
5. Cada pregunta tiene una sola respuesta correcta.
6. Desarrolle todas las preguntas del examen en un tiempo máximo de 2 horas.
7. En el cuadernillo de preguntas, escriba el **DESARROLLO** de cada tema en el espacio correspondiente.
8. Utilice lápiz # 2 para señalar el item seleccionado en la hoja de respuestas, rellenando el correspondiente casillero tal como se indica en el modelo.
9. No está permitido el uso de calculadora para el desarrollo del examen. (según corresponda a cada materia)
10. No consulte con sus compañeros, el examen es estrictamente personal.
11. En caso de tener alguna consulta, levante la mano hasta que el profesor pueda atenderlo.

Analice el mapa adjunto, y luego responda a las preguntas formuladas de la



1. ¿Qué países principalmente formaron la **triple alianza** durante la primera guerra mundial

- |          |          |          |          |
|----------|----------|----------|----------|
| A. 1,2,3 | B. 5,3,8 | C. 4,7,6 | D. 2,6,7 |
|----------|----------|----------|----------|

2. ¿Qué países principalmente formaron la **triple entente** durante la primera guerra mundial?

- |          |          |          |          |
|----------|----------|----------|----------|
| A. 2,8,3 | B. 1,2,3 | C. 4,5,6 | D. 4,7,6 |
|----------|----------|----------|----------|

3. ¿A qué país se conoce durante 1933-1945 como el Imperio del Tercer Reich?

- |      |      |      |      |
|------|------|------|------|
| A. 5 | B. 3 | C. 7 | D. 6 |
|------|------|------|------|

4. Conocido como el Imperio Otomano, y gobernado por la Dinastía osmanlí, inicio siendo un estado de Asia menor, hasta luego expandirse por gran parte del territorio de Europa del este, el antiguo imperio bizantino, entre otros. Ubique geográficamente es te Imperio, marque el número que le corresponde.

- |      |      |      |      |
|------|------|------|------|
| A. 5 | B. 3 | C. 6 | D. 7 |
|------|------|------|------|

5. Fue un acuerdo de Paz, que se firmó al final de Primera Guerra Mundial, fueron más de 50 los países que los suscribieron, este tratado terminó oficialmente con el estado de guerra entre la Alemania y los Aliados. ¿Cómo se llamó a este acuerdo de Paz?

- A. Acuerdo Sykes-Picot.
- B. **Tratado Versalles**
- C. Tratado de Potsdam
- D. Acuerdo de la Paz Armada

Responda (A) si es verdadero y (B) si es falso las siguientes declaratorias

6. “El Armisticio, fue un acuerdo al cuál llegaron la triple alianza (Alemania) y la triple entente (aliados) en la que se declaraban la suspensión de las hostilidades, y las operaciones de guerra por un mutuo acuerdo, se firmó el 11 de noviembre de 1918 “

- A. **verdadero**
- B. falso

7. Estos países fueron conocidos como el bloque Germano-Austro Húngaro, Nipón, eran el bando beligerante que luchaba contra los Aliados, en la Segunda Guerra Mundial, estando integrado y liderado por Alemania, el Imperio de Japón y el Reino de Italia, además de la ayuda de otros países.

- A. verdadero
- B. falso

8. ¿Qué acontecimiento desencadenó históricamente el inicio de la segunda Guerra mundial

- A. Invasión a Polonia
- B. Ataque a Perl Harbor
- C. Rompimiento del acuerdo Molotov
- D. Integración de las potencias del Eje.

9. Busque una relación con las ideologías en Europa y e l nombre que corresponde. Marque el literal que contenga la respuesta correcta

|     | Ideología  |   | Nombre     |
|-----|--|---|------------|
| I   | Ideología y el régimen que gobernó Alemania de 1933 a 1945 con la llegada al poder del Partido Nacionalsocialista Obrero Alemán (NSDAP), el autoproclamado Tercer Reich  | a | Fascismo   |
| II  | Ideología y un movimiento político que surgió en la Europa de entreguerras (1918-1939) creado por Benito Mussolini.  | b | Franquismo |
| III | Ideología cuyo movimiento social de carácter autoritario sirvió de apoyo y sustento a la dictadura que surgió en España tras la Guerra Civil comprendida entre 1936 y 1939 que como consecuencia del golpe de Estado dirigido por Emilio Mola en julio de 1936 derrocó al gobierno de la Segunda República | c | Nazismo    |

- A. Ib,Ila,IIIb
- B. Ia,IIb,IIIc
- C. Ic,IIb,IIla
- D. Ic, Ila,IIIb

10. Como se llamó al proyecto científico que se llevó a cabo durante la 2da guerra mundial entre EEUU, Canadá y Reino Unido; cuyo objetivo principal era desarrollar una bomba atómica antes de que la Alemania Nazi lo consiguiera.

|                      |                       |
|----------------------|-----------------------|
| A. Proyecto Trinity  | B. Proyecto Manhattan |
| C. Proyecto Marshall | D. Proyecto Molotov   |

11. ¿Cómo se llamó la reunión que mantuvieron durante la Segunda Guerra Mundial desde el 4 al 11 de febrero de 1945, Iósif Stalin, Winston Churchill y Franklin D. Roosevelt, para coordinar sus planes de guerra en un momento en el que las operaciones contra las potencias del Eje habían entrado en un momento decisivo

|                                   |                         |
|-----------------------------------|-------------------------|
| A. Conferencia del Telón de Acero | B. Conferencia de Moscú |
| C. Conferencia de Postdam         | D. Conferencia de Yalta |

12. El ataque a Pearl Harbor que hizo Japón, desató la guerra contra EEUU, Gran Bretaña y una serie de países declararon la guerra a Japón. Posteriormente Alemania e Italia declararon la guerra a EEUU. La entrada de EEUU y Japón en la contienda modificó la correlación de fuerzas y amplió las fronteras de la confrontación bélica. ¿En qué fecha se produjo?

|              |               |               |               |
|--------------|---------------|---------------|---------------|
| A. 6-12-1941 | B. 07-12-1941 | C. 09-12-1941 | D. 07-09-1945 |
|--------------|---------------|---------------|---------------|

13. ¿En qué año se produce la capitulación de Alemania?

|               |               |               |               |
|---------------|---------------|---------------|---------------|
| A. 02-09-1945 | B. 02-08-1945 | C. 08-05-1945 | D. 06-12-1941 |
|---------------|---------------|---------------|---------------|

14. Es conocida como el inicio de la guerra fría abierta, en el año 1947 ante la renuncia de Inglaterra a la tutela sobre Grecia y Turquía, el Presidente norteamericano Harry Truman se dirige al Congreso para sostener la necesidad de “ayudar a las naciones libres e independientes a mantener su libertad”, y así impedir el avance comunista. ¿Cómo se llamó a este discurso?

|                  |                      |                    |                    |
|------------------|----------------------|--------------------|--------------------|
| A. Plan Marsahll | B. Cortina de Hierro | C. Doctrina Truman | D. Doctrina Jdanov |
|------------------|----------------------|--------------------|--------------------|

A continuación se detallan algunos términos, busque la relación existente entre ambas. Marque el literal que contiene la respuesta correcta.

15. Palabra: Plan Marshall (relación de opuesto)

|              |                      |                    |                    |
|--------------|----------------------|--------------------|--------------------|
| A. Kominform | B. Cortina de Hierro | C. Doctrina Truman | D. Doctrina Jdanov |
|--------------|----------------------|--------------------|--------------------|

16. Palabra: Muro de Berlín (relación exclusión)

|                   |                 |                      |                           |
|-------------------|-----------------|----------------------|---------------------------|
| A. Guerra Vietnam | B. Guerra Corea | C. Crisis de misiles | D. Ataque a Pearl Harbor. |
|-------------------|-----------------|----------------------|---------------------------|

De acuerdo a los eventos que marcaron la primera guerra mundial, marque (A) si es Verdadero o (B) si es falso según corresponda a cada enunciado

| Enunciados  | (A) verdadero<br>(B) falso |
|---|----------------------------|
| 17. En 1914, en aplicación del plan Schlieffen, Alemania, que se encontraba en guerra contra Francia, invadió Bélgica para atacar a los ejércitos franceses desde el norte. | A                          |
| 18. EEUU se une a la primera Guerra Mundial en el año 1919  | B                          |
| 19. El Pacto Potsdam fue un tratado de paz que se firmó al final de la Primera Guerra Mundial por más de 50 países y poner fin a los combates en el campo de batalla.       | B                          |
| 20. El pacto de Versalles se firmó el 28 de Junio de 1919   | A                          |

De acuerdo al listado que se indican a continuación, determine el nombre del líder político, presidente o personaje que participó en la Segunda guerra Mundial, correlacione la respuesta con lo que se pide en la pregunta

21. Personaje: Winston Churchill

|                      |            |            |         |
|----------------------|------------|------------|---------|
| A. <b>Inglaterra</b> | B. Francia | C. Escocia | D. EEUU |
|----------------------|------------|------------|---------|




22. Trigésimo tercer presidente de los Estados Unidos desde 1945 a 1953. Ejerció rol protagónico en la 2da Guerra Mundial

|                          |                       |                      |                       |
|--------------------------|-----------------------|----------------------|-----------------------|
| A. <b>Harry S Truman</b> | B. Franklin Roosevelt | D. C. Jhon F. Kenedy | D. Dwight Eisenhower. |
|--------------------------|-----------------------|----------------------|-----------------------|




23. Primer Ministro de Italia

|                     |                              |  |                      |
|---------------------|------------------------------|--|----------------------|
| A. Sergio Matarella | B. Vittorio Emanuele Orlando | C. <b>Benito Amilcare Andrea Mussolini</b> | D. Alcide De Gasperi |
|---------------------|------------------------------|--|----------------------|

Analice las banderas y las principales características de los principales grupos extremistas que surgen en Siria y que se encuentran dominando gran parte del medio Oriente. Marque la respuesta correcta.

|   |  |  |
|---|--|--|
|  <ul style="list-style-type: none"> <li>• Sunismo, Yihadismo</li> <li>• “Cuando te encuentres con los infieles, atácalos en el cuello”</li> <li>• Líder Abu Musab al Zarqawi</li> </ul> |  <ul style="list-style-type: none"> <li>• Basado en el Corán</li> <li>• “Guerra de liberación</li> <li>• Líder principal Osama Bin Laden</li> </ul> |  <ul style="list-style-type: none"> <li>• Basado en la Ley de Sharia</li> <li>• Ustaz Mohammed Yusuf</li> </ul> |
| 24.   | 25.  | 26.  |
| A. <b>Isis</b>  | A. Isis  | A. Isis  |
| B. A Qaeda  | B. <b>Al Qaeda</b>   | B. A Qaeda   |
| C. Boko Haram   | C. Boko Haram  | C. <b>Boko Haram</b>   |

Analice las siguientes imágenes y determine a que religión del medio orientereresentan

|   |   |   |
|---|---|---|
|  |  |  |
| 27.   | 28.   | 29.   |
| A. Budismo  | A. <b>Budismo</b>   | A. Islam  |
| B. <b>Jainismo</b>  | B. Jainismo   | B. Jainismo   |
| C. Judaismo   | C. Hinduismo  | C. Hinduismo  |
| D. Islam  | D. Islam  | D. <b>Judaísmo</b>  |

Con relación a las principales transformaciones sociales ocurridas con la caída del Presidente Egipcio (1981-2011) marque verdadero (A) o falso (B) según corresponda a los siguientes enunciados:

| Nº  | Enunciado  | Verdadero(A)<br>Falso (B) |
|-----|--|---------------------------|
| 30. | Se cambió la constitución, con una aprobación del 63,8%, aunque sólo el 32,9% se presentó a votar. | A                         |
| 31. | Consumismo por imitación del mundo occidental  | A                         |
| 32. | Inicio de la consolidación del régimen democrático y representativo                                | A                         |
| 33. | Eliminación del decreto que impide al presidente revocar a los jefes del ejército.                 | A                         |
| 34. | Cesión del poder o reelección subsecuente  | B                         |

Identifique a los principales líderes políticos del mundo, protagonista de distintos eventos. Observe la imagen, luego identifique al personaje. Marque el literal que contiene la respuesta correcta.

|  |   |  |
|--|---|--|
|    |   |    |
| Gobernó Egipto, cerca de 30 años, tras una serie de protestas multitudinarias, fue condenado por represión a las protestas de la primavera Árabe, en donde murieron cerca de 800 personas. | Fue primer Ministro del Reino Unido, político y estadístico, que jugó un rol protagónico durante la segunda Guerra Mundial. | Bolchevique que impulsó la Revolución Rusa. Presidente del Consejo de Ministros de la Unión Soviética. Presidente de la fenecida URSS. Protagonista de la Guerra Fría. |
| 35.  | 36.   | 37.  |
| A. Maumar el Gadafi  | A. Harry S. Truman  | A. Vladímir Ilich Uliánov Lenin  |
| B. <b>Hosni Mubarak</b>  | B. Nikita Kruschev  | B. <b>Iósif Stalin</b>   |
| C. Yasir Arafat  | C. Mijaíl Gorbachov   | C. León Trotski  |
| D. Háfes al-Ásad   | D. <b>Winston Churchill</b>   | D. Mijaíl Gorbachov  |

38. ¿En qué fecha fue levantado el Muro de Berlín?

- A. **13 de agosto de 1961**
- B. 10 de agosto de 1961
- C. 1 septiembre de 1942
- D. 6 de Agosto de 1942

39. Conteste (A) si es verdadero y (B) si es Falso. EL Muro de Berlín, llamado el muro de protección antifascista por la RDA, Separó la zona de la ciudad berlinesa encuadrada en el espacio económico de la República Federal de Alemania (RFA).

|              |          |
|--------------|----------|
| A. verdadero | B. falso |
|--------------|----------|

40. El Muro de Berlín cayó en la noche del jueves 9 de noviembre de 1989, 28 años después de su construcción. La apertura del muro, fue consecuencia de las exigencias de libertad de circulación en la ex RDA y las evasiones constantes hacia las embajadas de capitales de países del Pacto de Praga y Varsovia y por la frontera entre Hungría y Austria.

|              |          |
|--------------|----------|
| A. verdadero | B. falso |
|--------------|----------|