

AÑO: 2019	PERIODO: SEGUNDO
MATERIA: CÁLCULO DE VARIAS VARIABLES	PROFESOR:
EVALUACIÓN: TERCERA	
TIEMPO DE DURACIÓN: 2 Horas	FECHA: FEBRERO 10 DE 2020

COMPROMISO DE HONOR

Yo, al firmar este compromiso, reconozco que el presente examen está diseñado para ser resuelto de manera individual, que NO puedo usar calculadora; que solo puedo comunicarme con la persona responsable de la recepción del examen; y, cualquier instrumento de comunicación que hubiere traído, debo apagarlo y depositarlo en la parte anterior del aula, junto con algún otro material que se encuentre acompañándolo. No debo, además, consultar libros, notas, ni apuntes adicionales a las que se entreguen en esta evaluación. Los temas debo desarrollarlos de manera ordenada.

Firmo al pie del presente compromiso, como constancia de haber leído y aceptar la declaración anterior.

"Como estudiante de ESPOL me comprometo a combatir la mediocridad y actuar con honestidad, por eso no copio ni dejo copiar".

FIRMA: _____ **NÚMERO DE MATRÍCULA:** _____ **PARALELO:** _____

PRIMER TEMA (10 puntos)

Conociendo que la ecuación $\ln z + x^2 - y + z - 1 = 0$ define a z como función implícita de x e

y , obtenga: $\frac{\partial z}{\partial x}$; $\frac{\partial z}{\partial y}$; $\frac{\partial^2 z}{\partial x \partial y}$

Si la ecuación $\ln z + x^2 - y + z - 1 = 0$, define a z como función implícita de x e y , derivando respecto de x se obtiene

$$\frac{1}{z} \cdot \frac{\partial z}{\partial x} + 2x + \frac{\partial z}{\partial x} = 0$$

de donde $\frac{\partial z}{\partial x} = -\frac{2xz}{1+z}$.

Derivando la ecuación inicial respecto de y conseguimos

$$\frac{1}{z} \cdot \frac{\partial z}{\partial y} - 1 + \frac{\partial z}{\partial y} = 0 \quad (*)$$

y por tanto, $\frac{\partial z}{\partial y} = \frac{z}{1+z}$.

Si ahora derivamos la igualdad (*) respecto de x deducimos que

$$-\frac{1}{z^2} \cdot \frac{\partial z}{\partial x} \cdot \frac{\partial z}{\partial y} + \frac{1}{z} \cdot \frac{\partial^2 z}{\partial x \partial y} + \frac{\partial^2 z}{\partial x \partial y} = 0$$

y teniendo en cuenta la anteriores valores obtenidos de la derivadas parciales $\frac{\partial z}{\partial x}$ y $\frac{\partial z}{\partial y}$ se consigue la igualdad

$$\frac{2x}{(1+z)^2} + \frac{1}{z} \cdot \frac{\partial^2 z}{\partial x \partial y} + \frac{\partial^2 z}{\partial x \partial y} = 0$$

y por consiguiente, $\frac{\partial^2 z}{\partial x \partial y} = -\frac{2xz}{(1+z)^3}$.



Rúbrica

Capacidades deseadas	Desempeño			
	Inicial	En desarrollo	Desarrollado	Excelente
El estudiante sabe cómo obtener derivadas parciales de primer y segundo orden a partir de una función implícita	No interpreta la forma implícita de la función y por lo tanto no desarrolla proceso de derivación alguno.	Interpreta la forma implícita de la función, pero solo puede obtener correctamente una de las tres derivadas parciales solicitadas.	Interpreta la forma implícita de la función, pero solo puede obtener correctamente dos de las tres derivadas parciales solicitadas.	Interpreta la forma implícita de la función, obteniendo correctamente las tres derivadas parciales solicitadas.
	0	1-4	5-9	10



SEGUNDO TEMA (15 puntos)

Utilizando multiplicadores de Lagrange demuestre que el paralelepípedo de mayor volumen que se puede inscribir en una esfera de radio r ($x^2 + y^2 + z^2 = r^2$), es un cubo.

Nota: Utilice como función volumen del paralelepípedo $V(x, y, z) = xyz$

Con las consideraciones anteriores el problema anterior se puede escribir como:

$$\begin{array}{ll} \text{máx} & xyz \quad \leftarrow f(\mathbf{x}) \\ \text{s.a.} & x^2 + y^2 + z^2 - r^2 = 0 \quad \leftarrow g_1(\mathbf{x}) \\ & x, y, z \geq 0 \end{array}$$

con $r \in \mathbb{R}$ fijo. Escribimos la función lagrangeana:

$$\mathcal{L}\{f, \mathbf{x}, \lambda\} = xyz + \lambda(x^2 + y^2 + z^2)$$

Calculamos todas las derivadas parciales:

$$\begin{aligned} \frac{\partial \mathcal{L}}{\partial x} &= yz + 2\lambda x = 0 \\ \frac{\partial \mathcal{L}}{\partial y} &= xz + 2\lambda y = 0 \\ \frac{\partial \mathcal{L}}{\partial z} &= xy + 2\lambda z = 0 \\ \frac{\partial \mathcal{L}}{\partial \lambda} &= x^2 + y^2 + z^2 - r^2 = 0 \end{aligned}$$

Resolviendo:

$$\begin{aligned} x &= -\frac{yz}{2\lambda} = \frac{z}{2\lambda} \frac{xz}{2\lambda} \\ y &= -\frac{xz}{2\lambda} = \frac{x}{2\lambda} \frac{xy}{2\lambda} \\ z &= -\frac{xy}{2\lambda} = \frac{y}{2\lambda} \frac{yz}{2\lambda} \end{aligned}$$

De la primera ecuación, asumiendo que $x \neq 0$ (no tiene sentido este caso),

$$4\lambda^2 = z^2$$

Análogamente para la segunda y la tercera:

$$\begin{aligned} 4\lambda^2 &= x^2 \\ 4\lambda^2 &= y^2 \end{aligned}$$

Es decir, sin determinar podemos concluir inmediatamente que dado que tanto x como y y tienen que ser positivos:

$$x_0 = y_0 = z_0$$

son las dimensiones buscadas, lo cual corresponde específicamente a un cubo y se demuestra así lo pedido. ■



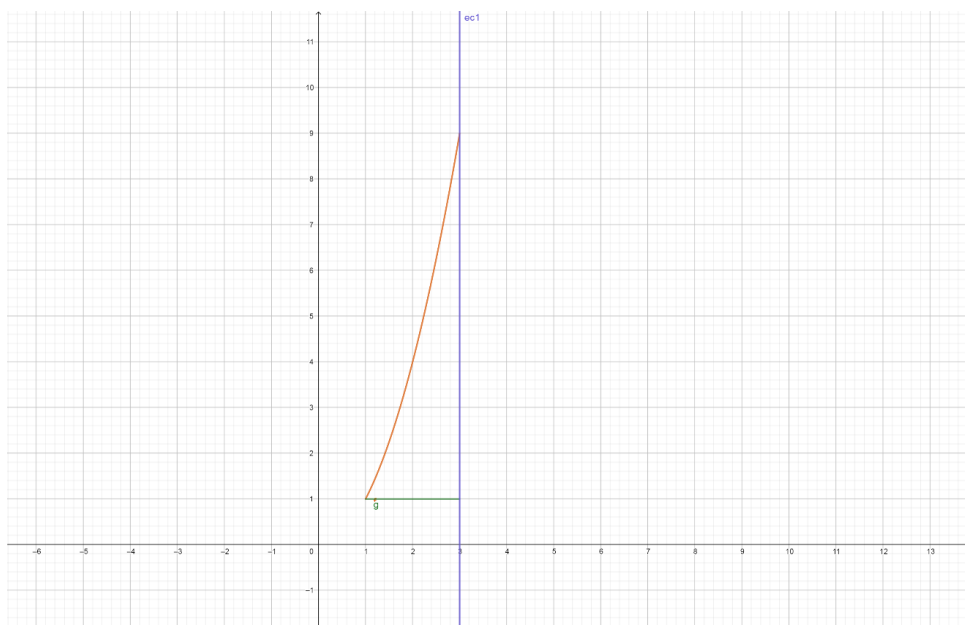
Rúbrica

Capacidades deseadas	Desempeño			
	Inicial	En desarrollo	Desarrollado	Excelente
El estudiante sabe cómo aplicar multiplicadores de Lagrange para resolver un ejercicio de optimización de una función de tres variables con una restricción.	No interpreta la aplicación y por lo tanto no puede definir la función objetivo, la restricción ni la función Lagrangiana.	Define la función objetivo, la restricción y la función Lagrangiana, pero comete errores al obtener sus derivadas parciales (1 punto por cada una de las 4 derivadas)	Define la función objetivo, la restricción, la función Lagrangiana y sus derivadas parciales, pero comete errores en el procedimiento algebraico que le impide obtener que las tres medidas son iguales.	Define la función objetivo, la restricción, la función Lagrangiana y sus derivadas parciales, desarrolla correctamente la parte algebraica para obtener que las tres medidas son iguales y por lo tanto corresponde a un cubo.
	0	1-7	8-14	15

TERCER TEMA (20 puntos)

Sea la curva en el plano formada por el arco de parábola $y = x^2$; $1 \leq x \leq 3$ y el segmento que une a los puntos (3,1) y (1,1) recorrida en sentido antihorario., utilizando el Teorema de Green, calcule la integral:

$$\int_C \left(\frac{x^2-y}{x^2} \right) dx + \left(\frac{2x^2-1}{x} \right) dy$$



Para poder utilizar el **teorema de Green**, debemos definir la curva cerrada en el plano agregando el segmento de recta que une los puntos $P_1(3,1)$ y $P_3(3,9)$, así $\bar{C} = C_1 \cup C_2 \cup C_3$, donde

- C_1 : Segmento de recta que une a $P_1(3,1)$ y $P_3(3,9)$
- C_2 : El arco de parábola que une a $P_3(3,9)$ y $P_2(1,1)$
- C_3 : Segmento de recta que une a $P_2(1,1)$ y $P_1(3,1)$

La integral se pide para la curva $C = C_2 \cup C_3$, así que la solución estará dada por:

$$\begin{aligned} \int_C \left(\frac{x^2 - y}{x^2} \right) dx + \left(\frac{2x^2 - 1}{x} \right) dy \\ = \int_{\bar{C}} \left(\frac{x^2 - y}{x^2} \right) dx + \left(\frac{2x^2 - 1}{x} \right) dy - \int_{C_1} \left(\frac{x^2 - y}{x^2} \right) dx + \left(\frac{2x^2 - 1}{x} \right) dy \end{aligned}$$

Usando el teorema de Green:

$$M = \frac{x^2 - y}{x^2}; \frac{\partial M}{\partial y} = -\frac{1}{x^2} \quad \text{y} \quad N = \frac{2x^2 - 1}{x}; \frac{\partial N}{\partial x} = \frac{2x^2 + 1}{x^2}$$

$$\begin{aligned} \int_{\bar{C}} \left(\frac{x^2 - y}{x^2} \right) dx + \left(\frac{2x^2 - 1}{x} \right) dy &= \int_1^3 \int_1^{x^2} \left(\frac{2x^2 + 1}{x^2} + \frac{1}{x^2} \right) dy dx \\ &= 2 \int_1^3 \int_1^{x^2} \left(\frac{x^2 + 1}{x^2} \right) dy dx = 2 \int_1^3 \left(\frac{x^4 - 1}{x^2} \right) dx = 2 \left[\frac{x^3}{3} + \frac{1}{x} \right]_1^3 = 16 \end{aligned}$$

- Para C_1 : $r(t) = (3, 1 + 8t)$; $t \in [0, 1]$ y $r'(t) = (0, 8)$, luego

$$\int_{C_1} \left(\frac{x^2 - y}{x^2} \right) dx + \left(\frac{2x^2 - 1}{x} \right) dy = \int_0^1 \left(\frac{17}{3} \right) 8 dt = \frac{136}{3}$$

Por lo tanto,

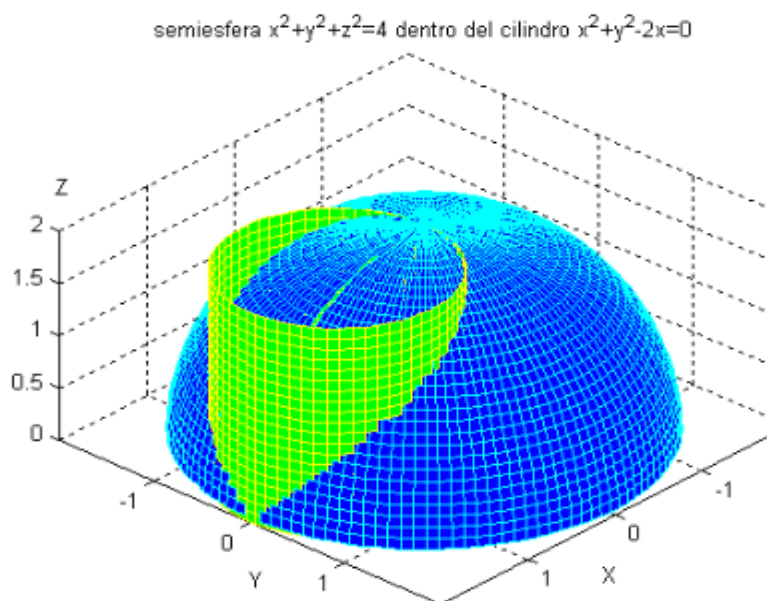
$$\int_C \left(\frac{x^2 - y}{x^2} \right) dx + \left(\frac{2x^2 - 1}{x} \right) dy = 16 - \frac{136}{3} = -\frac{88}{3}$$



Capacidades deseadas	Desempeño			
	Inicial	En desarrollo	Desarrollado	Excelente
El estudiante sabe cómo interpretar y aplicar el teorema de Green para cálculo de integrales de línea.	No sabe cómo definir la curva cerrada en el plano	Define la curva cerrada en el plano, determina los 3 segmentos que forman la trayectoria, pero aplica mal el Teorema de Grenn para el cálculo de las dos integrales necesarias.	Define la curva cerrada en el plano, determina los 3 segmentos que forman la trayectoria, aplica bien el Teorema de Grenn por lo menos para una de las dos integrales necesarias y evalúa correctamente la integral.	Define la curva cerrada en el plano, determina los 3 segmentos que forman la trayectoria, aplica bien el Teorema de Grenn para de las dos integrales necesarias y las evalúa correctamente o comete errores poco significativos en el proceso.
	0	1-8	9-15	16-20

CUARTO TEMA (20 puntos)

Determine el área de la porción de la superficie de la semiesfera $x^2 + y^2 + z^2 = 4a^2$ ($z \geq 0$) que es interior al cilindro $x^2 + y^2 - 2ax = 0$.

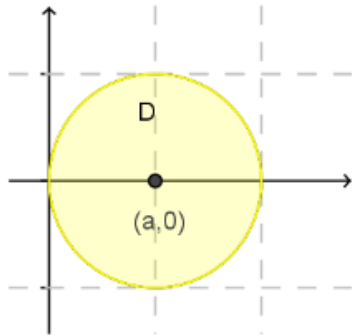


Teniendo en cuenta que el punto genérico (x, y, z) está sobre la esfera, deberá verificar su

ecuación, es decir $z = +\sqrt{4a^2 - (x^2 + y^2)}$ (recordemos $z \geq 0$), luego,

$$dS = \sqrt{1 + f_x'^2 + f_y'^2} = \sqrt{1 + \left(\frac{-x}{\sqrt{4a^2 - (x^2 + y^2)}}\right)^2 + \left(\frac{-y}{\sqrt{4a^2 - (x^2 + y^2)}}\right)^2} =$$

$$= \frac{2a}{\sqrt{4a^2 - (x^2 + y^2)}} \Rightarrow \text{Área} = \iint_D \frac{2a \, dx \, dy}{\sqrt{4a^2 - (x^2 + y^2)}}$$



D es el dominio, en el plano XOY, limitado por la circunferencia de la figura, cuya ecuación se puede expresar como

$$x^2 + y^2 - 2ax = 0,$$

o bien

$$(x - a)^2 + y^2 = a^2$$

Podemos usar simetrías, ya que al cambiar y por $-y$ no cambia la ecuación de la frontera del

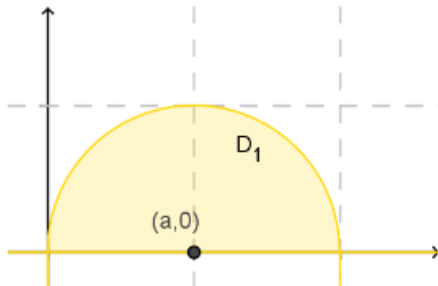
dominio ni la función subintegral, luego podemos escribir $\text{Área} = 4 \iint_{D_1} \frac{a \, dx \, dy}{\sqrt{4a^2 - (x^2 + y^2)}}$,

siendo D_1 el semicírculo superior limitado por la circunferencia $x^2 + y^2 - 2ax = 0$ y el eje OX.

Podemos usar simetrías, ya que al cambiar y por -y no cambia la ecuación de la frontera del

dominio ni la función subintegral, luego podemos escribir $\text{Área} = 4 \iint_{D_1} \frac{a \, dx \, dy}{\sqrt{4a^2 - (x^2 + y^2)}}$,

siendo D_1 el semicírculo superior limitado por la circunferencia $x^2 + y^2 - 2ax = 0$ y el eje OX.



Hacemos el cambio a coordenadas polares:

$$\begin{cases} x = r \cos \theta \\ y = r \sin \theta \end{cases}$$

$$dx \, dy = \frac{\partial(x, y)}{\partial(r, \theta)} \, dr \, d\theta = r \, dr \, d\theta$$

En coordenadas polares, la ecuación de la circunferencia que limita el dominio D' se convierte en $r = 2a \cos \theta$, luego

$$\text{Área} = 4a \iint_{D'} \frac{r \, dr \, d\theta}{\sqrt{4a^2 - r^2}} = 4a \int_0^{\pi/2} d\theta \int_0^{2a \cos \theta} \frac{r \, dr}{\sqrt{4a^2 - r^2}}$$

Y resolviendo queda

$$\int_0^{2a \cos \theta} \frac{r \, dr}{\sqrt{4a^2 - r^2}} = \left[-\sqrt{4a^2 - r^2} \right]_0^{2a \cos \theta} = \sqrt{4a^2} (1 - \sqrt{1 - \cos^2 \theta}) = 2a(1 - \sin \theta)$$

Rúbrica

Capacidades deseadas	Desempeño			
	Inicial	En desarrollo	Desarrollado	Excelente
El estudiante sabe cómo calcular el área de la superficie originada por la intersección de dos superficies en R^3	No sabe cómo relacionar e interpretar el dominio ni puede obtener el dS requerido	Interpreta bien el escenario solicitado, obtiene el dS requerido y establece correctamente la integral doble respectiva, pero comete errores al interpretar las simetrías presentes en el ejercicio.	Interpreta bien el escenario solicitado, obtiene el dS requerido, establece correctamente la integral doble respectiva, aplica las simetrías presentes en el ejercicio, pero comete errores en el proceso de integración ya sea en polares o en rectangulares.	Desarrolla correctamente el bosquejo, el dS, el integral de área, simetrías, cambio a coordenadas polares y llega a la respuesta correcta o comete pocos errores en la integración.
	0	1-8	9-17	18-20



Determine el trabajo realizado por el campo de fuerzas:

$\vec{F}(x, y, z) = (6xy - 4z^2 \cos x, 2e^z + 3x^2, 2ye^z - 8z \sin x)$, al mover una partícula a lo largo de la hélice circular $\vec{r}(t) = \sin(\pi t)\hat{i} + \cos(\pi t)\hat{j} + (2t + 1)\hat{k}$, $0 \leq t \leq 1/2$.

Como $\nabla \times (6xy - 4z^2 \cos x, 2e^z + 3x^2, 2ye^z - 8z \sin x) = \theta$ sobre \mathbb{R}^3 , el campo es conservativo.

$$\frac{\partial f}{\partial x} = 6xy - 4z^2 \cos x \Rightarrow f(x, y) = 3x^2y - 4z^2 \sin x + g(y, z)$$

$$\Rightarrow \frac{\partial f}{\partial y} = 3x^2 + \frac{\partial g}{\partial y} = 3x^2 + 2e^z, \quad \frac{\partial g}{\partial y} = 2e^z \quad \text{y} \quad g(y, z) = 2ye^z + h(z)$$

Así, $f(x, y, z) = 3x^2y - 4z^2 \sin x + 2ye^z + h(z)$ y ahora

$$\frac{\partial f}{\partial z} = -8z \sin x + 2ye^z + h'(z) = -8z \sin x + 2ye^z \Rightarrow h'(z) = 0 \quad \text{y} \quad h(z) = 0.$$

Por lo tanto, un potencial de F es la función

$$f(x, y, z) = 3x^2y - 4z^2 \sin x + 2ye^z.$$

Ahora, como $\vec{r}(0) = (0, 1, 1)$ y $\vec{r}(1/2) = (1, 0, 2)$ se concluye que

$$\begin{aligned} W &= \int_C F \cdot d\vec{r} = f(1, 0, 2) - f(0, 1, 1) \\ &= -16 \sin 1 - 2e \end{aligned}$$

Rúbrica

Capacidades deseadas	Desempeño			
	Inicial	En desarrollo	Desarrollado	Excelente
El estudiante sabe cómo determinar la cantidad de trabajo que le toma a un campo vectorial trasladar una partícula a lo largo de una trayectoria.	No interpreta el ejercicio como aplicación de una integral de línea de un campo vectorial.	Calcula el rotacional del campo vectorial y concluye que es conservativo, pero comete errores en la búsqueda de la función potencial.	Calcula el rotacional del campo vectorial y concluye que es conservativo, obtiene la función potencial, pero comete errores en el cálculo de la integral de línea sin importar el método que realice.	Calcula el rotacional del campo vectorial y concluye que es conservativo, obtiene la función potencial, y obtiene el valor de la integral de línea sin importar el método que realice o comete errores en el proceso.
	0	1-7	8-15	16-20



SEXTO TEMA (20 puntos)

Dada la función $f(x, y) = \begin{cases} \frac{yx^2 - y^3}{x^2 + y^2}, & (x, y) \neq (0, 0) \\ 0, & (x, y) = (0, 0) \end{cases}$

- Determine la continuidad de la función en el punto $(0,0)$
- Estudie la continuidad de las derivadas parciales $\frac{\partial f}{\partial x}$ y $\frac{\partial f}{\partial y}$ en el origen.
- ¿De los resultados obtenidos puede deducirse la diferenciabilidad de la función $f(x, y)$ en el origen?

a)

1. $f(0,0) = 0$

$$\begin{aligned}
 2. - \lim_{(x,y) \rightarrow (0,0)} f(x,y) &= \lim_{(x,y) \rightarrow (0,0)} \frac{yx^2 - y^3}{x^2 + y^2} \stackrel{\substack{x = \rho \cos \theta \\ y = \rho \operatorname{sen} \theta}}{=} \lim_{(x,y) \rightarrow (0,0)} \frac{\rho^3 \operatorname{sen} \theta \cos^2 \theta - \rho^3 \operatorname{sen}^3 \theta}{\rho^2} = \\
 &= \lim_{(x,y) \rightarrow (0,0)} \frac{\rho^3 (\cos^2 \theta \operatorname{sen} \theta - \operatorname{sen}^3 \theta)}{\rho^2} = \lim_{(x,y) \rightarrow (0,0)} \rho (\cos^2 \theta - \operatorname{sen}^2 \theta) \operatorname{sen} \theta = \\
 &= \lim_{(x,y) \rightarrow (0,0)} \rho \cos 2\theta \operatorname{sen} \theta = 0
 \end{aligned}$$

3. $f(0,0) = \lim_{(x,y) \rightarrow (0,0)} f(x,y)$

Luego $f(x,y)$ es continua en $(0,0)$.

- b) i.- Analicemos la continuidad de la derivada parcial con respecto a x , en el origen

$$\begin{cases} \frac{\partial f(0,0)}{\partial x} = \lim_{h \rightarrow 0} \frac{f(h,0) - f(0,0)}{h} = \lim_{h \rightarrow 0} \frac{\frac{0}{h^2} - 0}{h} = \lim_{h \rightarrow 0} \frac{0}{h} = 0 \\ \frac{\partial f(x,y)}{\partial x} = \frac{2xy(x^2 + y^2) - (yx^2 - y^3)2x}{(x^2 + y^2)^2} = \frac{4xy^3}{(x^2 + y^2)^2} \end{cases}$$

entonces podemos escribir,

$$\frac{\partial f}{\partial x} = \begin{cases} \frac{4xy^3}{(x^2 + y^2)^2} & (x,y) \neq (0,0) \\ 0 & (x,y) = (0,0) \end{cases}$$



analicemos su continuidad en el origen,

$$a) \frac{\partial f(0,0)}{\partial x} = 0$$

$$b) \lim_{(x,y) \rightarrow (0,0)} \frac{\partial f(x,y)}{\partial x} = \lim_{(x,y) \rightarrow (0,0)} \frac{4xy^3}{(x^2+y^2)^2} = \lim_{\rho \rightarrow 0} \frac{4\rho^4 \cos\theta \sin^3\theta}{\rho^4} = 4 \cos\theta \sin^3\theta$$

luego $\lim_{(x,y) \rightarrow (0,0)} \frac{\partial f(x,y)}{\partial x}$ no existe, de lo que se deduce que $\frac{\partial f(x,y)}{\partial x}$ no es continua en $(0,0)$.

ii.- Analicemos la continuidad de la derivada parcial con respecto a y, en el origen:

$$\begin{cases} \frac{\partial f(0,0)}{\partial y} = \lim_{k \rightarrow 0} \frac{f(0,k) - f(0,0)}{k} = \lim_{k \rightarrow 0} \frac{\frac{-k^3}{k^2} - 0}{k} = \lim_{k \rightarrow 0} \frac{-k^3}{k^3} = -1 \\ \frac{\partial f(x,y)}{\partial y} = \frac{(x^2 - 3y^2)(x^2 + y^2) - (yx^2 - y^3)2y}{(x^2 + y^2)^2} = \frac{x^4 - y^4 - 4x^2y^2}{(x^2 + y^2)^2} \end{cases}$$

resulta que,

$$\frac{\partial f}{\partial y} = \begin{cases} \frac{x^4 - y^4 - 4x^2y^2}{(x^2 + y^2)^2} & (x,y) \neq (0,0) \\ -1 & (x,y) = (0,0) \end{cases}$$

analicemos su continuidad en el origen,

$$a) \frac{\partial f(0,0)}{\partial y} = -1$$

$$b) \lim_{(x,y) \rightarrow (0,0)} \frac{\partial f(x,y)}{\partial x} = \lim_{(x,y) \rightarrow (0,0)} \frac{x^4 - y^4 - 4x^2y^2}{(x^2 + y^2)^2} = \lim_{\rho \rightarrow 0} \frac{\rho^4 \cos^4\theta - \rho^4 \sin^4\theta - 4\rho^4 \cos^2\theta \sin^2\theta}{\rho^4} =$$

$$= \cos^4\theta - \sin^4\theta - 4\cos^2\theta \sin^2\theta$$

luego $\lim_{(x,y) \rightarrow (0,0)} \frac{\partial f(x,y)}{\partial y}$ no existe, de lo que se deduce que $\frac{\partial f(x,y)}{\partial y}$ no es continua en $(0,0)$.

Por tanto, de los resultados obtenidos no puede deducirse la diferenciabilidad de $f(x,y)$ en el origen, (ninguna de las parciales es continua en el origen).



Rúbrica

Capacidades deseadas	Desempeño			
El estudiante sabe cómo determinar continuidad de una función y de sus derivadas parciales en un punto, así como establecer condiciones de diferenciabilidad.	Inicial	En desarrollo	Desarrollado	Excelente
	No sabe cómo establecer la continuidad de la función en el origen o comete errores en el cálculo del límite respectivo.	Determina correctamente la continuidad de la función en el origen, pero comete errores en la obtención de las derivadas parciales.	Determina correctamente la continuidad de la función en el origen, obtiene las derivadas parciales, pero comete errores en el análisis de su continuidad en el origen.	Determina correctamente la continuidad de la función en el origen, obtiene las derivadas parciales, determina su continuidad en el origen y establece la no diferenciabilidad de la función en el origen o comete errores en su conclusión.
	0-4	5-10	11-15	16-20

